







## II/IIIBPDP zajęcia ogólnorozwojowe

Dzień Dobry,

Natalko dla Ciebie na dziś przygotowałam ćwiczenia matematyczne. Proszę spróbuj wyciąć i ułożyć prawidłowo równania.

Rozetnij kartę. Dopasuj działania. Oblicz.

$4 + 0 =$	
$3 + 1 =$	
$2 + 2 =$	
$1 + 3 =$	
$0 + 4 =$	
$1 + 1 + 1 + 1 =$	

Pozdrawiam i życzę powodzenia,

Mariola Wakulińska